

Series OSR/1/C

कोड नं. **59/1/1**
Code No.

रोल नं.

--	--	--	--	--	--	--

Roll No.

परीक्षार्थी कोड को उत्तर-पुस्तिका के मुख-पृष्ठ पर अवश्य लिखें ।

Candidates must write the Code on the title page of the answer-book.

- कृपया जाँच कर लें कि इस प्रश्न-पत्र में मुद्रित पृष्ठ **12** हैं ।
- प्रश्न-पत्र में दाहिने हाथ की ओर दिए गए कोड नम्बर को छात्र उत्तर-पुस्तिका के मुख-पृष्ठ पर लिखें ।
- कृपया जाँच कर लें कि इस प्रश्न-पत्र में **35** प्रश्न हैं ।
- कृपया प्रश्न का उत्तर लिखना शुरू करने से पहले, प्रश्न का क्रमांक अवश्य लिखें ।
- इस प्रश्न-पत्र को पढ़ने के लिए 15 मिनट का समय दिया गया है । प्रश्न-पत्र का वितरण पूर्वाह्न में 10.15 बजे किया जाएगा । 10.15 बजे से 10.30 बजे तक छात्र केवल प्रश्न-पत्र को पढ़ेंगे और इस अवधि के दौरान वे उत्तर-पुस्तिका पर कोई उत्तर नहीं लिखेंगे ।
- Please check that this question paper contains **12** printed pages.
- Code number given on the right hand side of the question paper should be written on the title page of the answer-book by the candidate.
- Please check that this question paper contains **35** questions.
- **Please write down the Serial Number of the question before attempting it.**
- 15 minutes time has been allotted to read this question paper. The question paper will be distributed at 10.15 a.m. From 10.15 a.m. to 10.30 a.m., the students will read the question paper only and will not write any answer on the answer-book during this period.

राजनीति विज्ञान

POLITICAL SCIENCE

निर्धारित समय : 3 घण्टे

Time allowed : 3 hours

अधिकतम अंक : 100

Maximum Marks : 100

सामान्य निर्देश :

- (i) सभी प्रश्न अनिवार्य हैं ।
- (ii) प्रश्न संख्या 1 – 10 तक एक अंक के हैं । इन प्रश्नों के उत्तर 20 शब्दों से अधिक नहीं होने चाहिए ।
- (iii) प्रश्न संख्या 11 – 20 तक दो अंकों के हैं । इन प्रश्नों के उत्तर 40 शब्दों से अधिक नहीं होने चाहिए ।
- (iv) प्रश्न संख्या 21 – 30 तक चार अंकों के हैं । इन प्रश्नों के उत्तर 100 शब्दों से अधिक नहीं होने चाहिए ।
- (v) प्रश्न संख्या 31 – 35 तक छः अंकों के हैं । इन प्रश्नों के उत्तर 150 शब्दों से अधिक नहीं होने चाहिए ।
- (vi) प्रश्न संख्या 30 मानचित्र पर आधारित प्रश्न है । इसके उत्तर अपनी उत्तर-पुस्तिका में लिखिए ।


General Instructions :

- (i) All questions are compulsory.
- (ii) Questions number 1– 10 are of 1 mark each. The answers to these questions should not exceed 20 words each.
- (iii) Questions number 11– 20 are of 2 marks each. The answers to these questions should not exceed 40 words each.
- (iv) Questions number 21– 30 are of 4 marks each. The answers to these questions should not exceed 100 words each.
- (v) Questions number 31– 35 are of 6 marks each. The answers to these questions should not exceed 150 words each.
- (vi) Question number 30 is a map-based question. Write its answers in your answer-book.

1. दक्षेस (SAARC) के मुख्य उद्देश्य का उल्लेख कीजिए । 1
Mention the main objective of SAARC.
2. 'बैंडवैगन' रणनीति से क्या अभिप्राय है ? 1
What is meant by 'bandwagon' strategy ?
3. सुरक्षा की परिभाषा लिखिए । 1
Define Security.
4. संयुक्त राष्ट्र सुरक्षा परिषद् के किन सदस्यों को वीटो का अधिकार है ? 1
Which members of the United Nations Security Council have veto power ?

5. 'भाग्यवधू से चिर-प्रतीक्षित भेंट' (ट्रस्ट विद डॉस्टेनी) शोषक वाला भाषण किसके द्वारा तथा कब दिया गया था ? $\frac{1}{2} + \frac{1}{2} = 1$
When and by whom was the speech titled as 'Tryst with Destiny' delivered ?
6. मार्च 1957 में, केरल में किस राजनीतिक दल ने सरकार बनाई ? मुख्यमंत्री कौन बना ? $\frac{1}{2} + \frac{1}{2} = 1$
Which political party formed the government in Kerala in March, 1957 ?
Who became the Chief Minister ?
7. शाह जाँच आयोग का गठन कब और क्यों किया गया था ? $\frac{1}{2} + \frac{1}{2} = 1$
When and why was Shah Commission appointed ?
8. राम मनोहर लोहिया ने गैर-कांग्रेसवाद के पक्ष में कौन-सा सैद्धांतिक तर्क दिया था ? 1
Which theoretical argument did Ram Manohar Lohia give in defence of Non-Congressism ?
9. भारतीय संविधान के अनुच्छेद 370 की किसी एक मुख्य विशेषता का उल्लेख कीजिए । 1
Mention any one salient feature of Article 370 of the Indian Constitution.
10. दल-आधारित आंदोलनों से क्या अभिप्राय है ? 1
What is meant by party-based movements ?
11. गुट-निरपेक्ष आंदोलन (NAM) के किन्हीं दो संस्थापक सदस्य देशों के नाम लिखिए । $2 \times 1 = 2$
Name any two founder member countries of Non-Aligned Movement (NAM).
12. 'शॉक-थेरेपी' के किन्हीं दो परिणामों को उजागर कीजिए । $2 \times 1 = 2$
Highlight any two consequences of 'Shock Therapy'.
13. किन्हीं दो विश्वव्यापी सार्वजनिक वस्तुओं के उदाहरण दीजिए । $2 \times 1 = 2$
Mention any two examples of global public goods.
14. यूरोपीय संघ के झंडे में, '12 सोने के रंग के सितारे' किसका प्रतीक हैं ? 2
In the European Flag, what does the symbol of 'twelve golden stars' signify ?
15. 'साझी परन्तु अलग-अलग जिम्मेदारियाँ' — इस धारणा से क्या अभिप्राय है ? 2
What is meant by the concept — 'Common but differentiated responsibilities' ?

16. हरित क्रांति का एक सकारात्मक एवं एक नकारात्मक प्रभाव लिखिए । 1+1=2
State one positive and one negative effect of Green Revolution.
17. भारतीय जन संघ का कौन-सा सदस्य प्रधानमंत्री नेहरू के पहले मंत्रिपरिषद् में मंत्री बना ? उसने कब और क्यों इस्तीफा दिया ? $\frac{1}{2} + \frac{1}{2} + 1 = 2$
Which member of Bharatiya Jana Sangh was the minister in the first Council of Ministers of Prime Minister Nehru ? When did he resign and why ?
18. शिमला समझौता क्या था ? इस पर किस-किस ने हस्ताक्षर किए ? $1 + \frac{1}{2} + \frac{1}{2} = 2$
What was Shimla Agreement ? Who were its signatories ?
19. दलित पैथर्स के द्वारा उठाए गए किन्हीं दो मुद्दों का उल्लेख कीजिए । 2×1=2
Mention any two issues raised by the Dalit Panthers.
20. गठबंधन सरकार से क्या अभिप्राय है ? भारत में केन्द्रीय स्तर पर गठबंधन सरकार का दौर कब शुरू हुआ ? $1\frac{1}{2} + \frac{1}{2} = 2$
What is meant by Coalition Government ? When did the era of coalition governments start at the Central level in India ?
21. ऐसी किन्हीं चार वास्तविकताओं का उल्लेख कीजिए जिन्होंने शीत युद्ध के पश्चात् विश्व राजनीति को बदल दिया । 4×1=4
Mention any four realities that changed the world politics after the Cold War.
22. नीचे दिए गए कार्टून का ध्यानपूर्वक अध्ययन कीजिए तथा निम्नलिखित प्रश्नों के उत्तर दीजिए : 4×1=4



- (i) दिए गए कार्टून का सम्बन्ध किस देश से है ?
- (ii) एल.टी.टी.ई. का विस्तृत रूप लिखिए ।
- (iii) एल.टी.टी.ई. की मुख्य माँग क्या थी ?
- (iv) राजपक्षे कौन-सा राजनीतिक कार्य करने का प्रयास कर रहा है ?

Study the cartoon given below carefully and answer the following questions :



- (i) The given cartoon is related to which country ?
- (ii) What is the full form of LTTE ?
- (iii) What was the main demand of LTTE ?
- (iv) Rajapakse is trying to perform which political act ?

नोट : निम्नलिखित प्रश्न केवल दृष्टिहीन परीक्षार्थियों के लिए, प्रश्न संख्या 22 के स्थान पर हैं ।

Note : The following questions are for the **BLIND CANDIDATES** only, in lieu of Question No. 22.

निम्नलिखित प्रश्नों के उत्तर लिखिए :

4×1=4

- (i) एल.टी.टी.ई. (LTTE) का विस्तृत रूप लिखिए ।
- (ii) एल.टी.टी.ई. (LTTE) का सम्बन्ध किस देश से है ?
- (iii) एल.टी.टी.ई. (LTTE) की मुख्य माँग क्या थी ?
- (iv) जातीय संघर्ष से क्या अभिप्राय है ?

Answer the following questions :

- (i) What is the full form of LTTE ?
- (ii) LTTE is related to which country ?
- (iii) What was the main demand of the LTTE ?
- (iv) What is meant by ethnic conflict ?

23. “संयुक्त राष्ट्र एक अपरिहार्य संस्था है ।” इस कथन को किन्हीं दो उपयुक्त तर्कों द्वारा सत्यापित कीजिए । 2×2=4

“The UN is an indispensable organisation.” Justify the statement with any two suitable arguments.

24. भारत की सुरक्षा रणनीति के किन्हीं चार घटकों की व्याख्या कीजिए । 4×1=4
Explain any four components of India’s security strategy.

25. ‘वैश्विक साझी संपदा’ से क्या अभिप्राय है ? इसकी सुरक्षा के लिए किन्हीं दो चरणों का सुझाव दीजिए । 2+2=4

What is meant by ‘Global Commons’ ? Suggest any two steps for the protection of ‘Global Commons’.

26. वैश्वीकरण से क्या अभिप्राय है ? वैश्वीकरण के किन्हीं तीन राजनीतिक परिणामों की व्याख्या कीजिए । 1+3=4

What is meant by globalisation ? Explain any three political consequences of globalisation.

27. महात्मा गाँधी ने 15 अगस्त, 1947 के दिन स्वतंत्रता दिवस के किसी भी जश्न में भाग क्यों नहीं लिया ? स्पष्ट कीजिए । 4

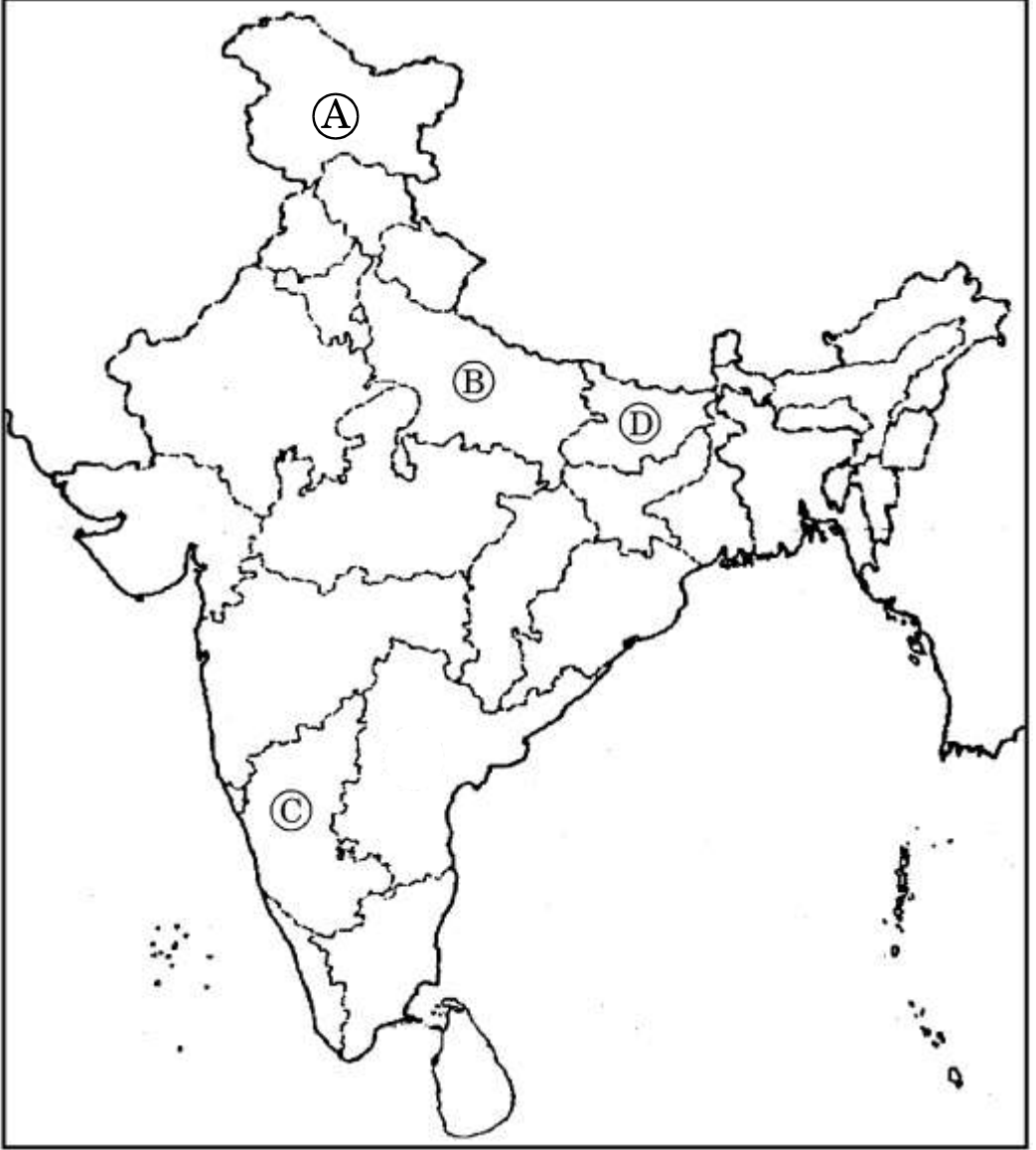
Why did Mahatma Gandhi not participate in any of the Independence Day celebrations on 15th August, 1947 ? Explain.

28. स्वतंत्र भारत की परमाणु नीति की व्याख्या कीजिए । 4
Explain the nuclear policy of independent India.

29. 25 जून, 1975 को घोषित आपातकाल के किन्हीं चार परिणामों की व्याख्या कीजिए । 4×1=4
Explain any four consequences of emergency declared on 25th June, 1975.

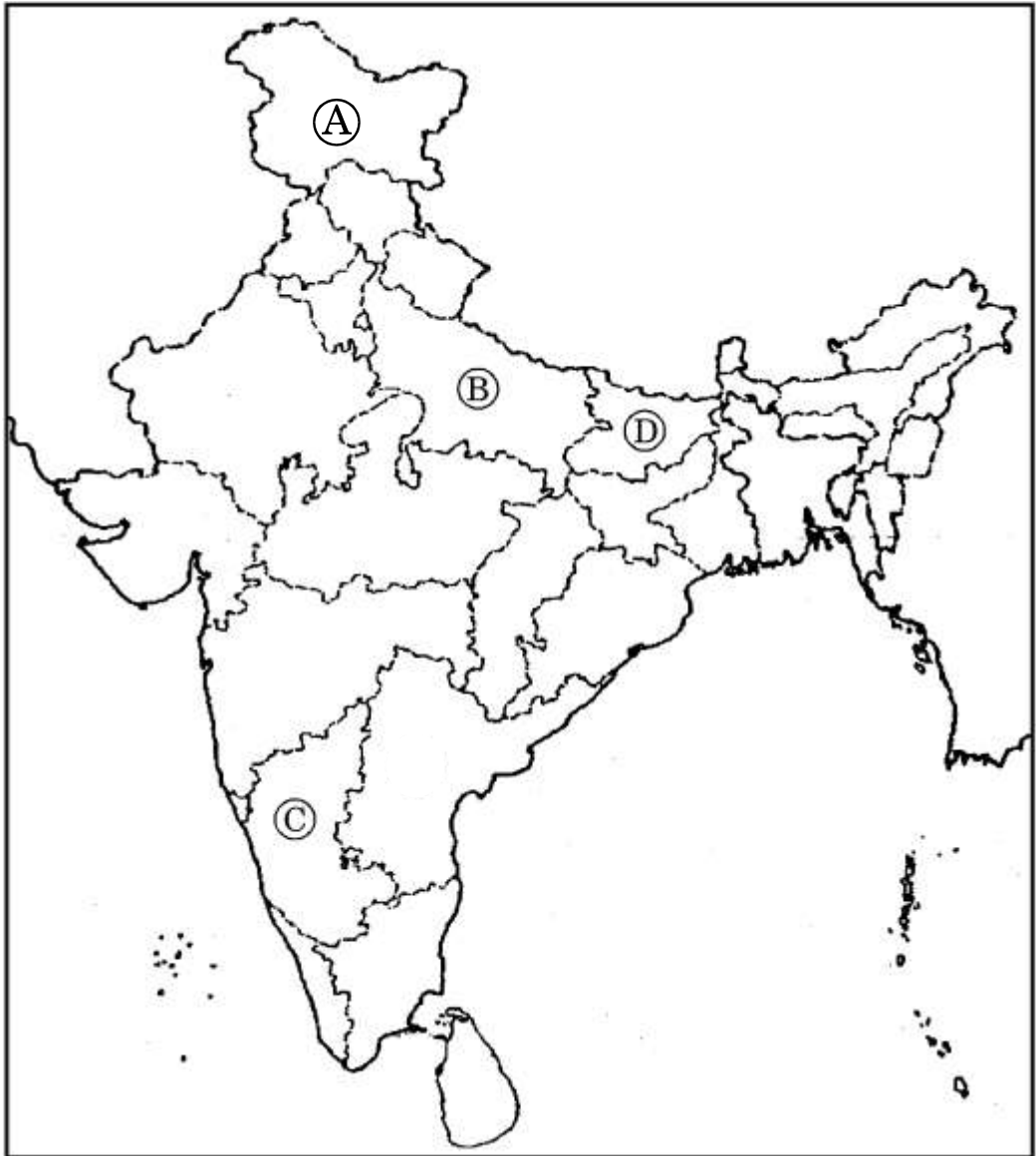
30. दिए गए भारत के राजनीतिक रखा मानाचत्र म, चार राज्या का (A), (B), (C) और (D) द्वारा चिह्नित किया गया है। नीचे दी गई जानकारी के आधार पर इनकी पहचान कीजिए और अपनी उत्तर पुस्तिका में इनके सही नाम क्रमशः सम्बन्धित क्रम संख्या एवं अक्षर सहित लिखिए :

4×1=4



- (i) वह राज्य जहाँ से पूर्व प्रधानमंत्री वी.पी. सिंह निर्वाचित हुए थे।
- (ii) जून 1996 से अप्रैल 1997 तक रहे पूर्व प्रधानमंत्री का राज्य।
- (iii) वह राज्य जिसका सम्बन्ध मंडल आयोग (1977 – 79) के अध्यक्ष से था।
- (iv) वह राज्य जहाँ 1952 से 1967 तक नेशनल कॉन्फ्रेंस की सरकार बनी रही।

In the given political outline map of India, four States have been marked as (A), (B), (C) and (D). Identify them with the help of the information given below and write their correct names in your answer book along with their respective serial numbers and the alphabets concerned :



- (i) The State wherefrom former Prime Minister V.P. Singh was elected.
- (ii) The former Prime Minister from June 1996 to April 1997 belonged to this State.
- (iii) The State to which the Chairman of Mandal Commission (1977 – 79) belonged.
- (iv) The State where the National Conference ruled from 1952 to 1967.

नोट : निम्नलिखित प्रश्न केवल दृष्टिहीन परीक्षार्थियों के लिए, प्रश्न संख्या 30 के स्थान पर हैं।

Note : The following questions are for the **BLIND CANDIDATES** only, in lieu of Question No. 30.

निम्नलिखित प्रश्नों के उत्तर दीजिए :

4×1=4

- (i) पूर्व प्रधानमंत्री वी.पी. सिंह किस राज्य से निर्वाचित हुए थे ?
- (ii) मंडल आयोग (1977 – 79) का अध्यक्ष कौन था ?
- (iii) पूर्व प्रधानमंत्री नरसिम्हा राव किस राज्य से सम्बन्धित थे ?
- (iv) न्यूनतम कार्यकाल के लिए रहे पूर्व प्रधानमंत्री का नाम लिखिए।

Answer the following questions :

- (i) The former Prime Minister V.P. Singh was elected from which State ?
- (ii) Who was the Chairman of the Mandal Commission (1977 – 79) ?
- (iii) The former Prime Minister Narasimha Rao belonged to which State ?
- (iv) Name the former Prime Minister who remained in office for the shortest tenure.

31. शीत युद्ध समाप्त होने के पश्चात्, गुट-निरपेक्ष आंदोलन की प्रासंगिकता का मूल्यांकन कीजिए।

6

अथवा

सोवियत संघ के विघटन के किन्हीं छः कारणों का विश्लेषण कीजिए।

6×1=6

Evaluate the relevance of the Non-Aligned Movement after the end of the Cold War.

OR

Analyse any six causes of the disintegration of the Soviet Union.

32. वर्चस्व से क्या अभिप्राय है ? अमरीकी शक्ति के रास्ते में किन्हीं दो अवरोधों की व्याख्या कीजिए।

2+4=6

अथवा

चीन तथा संयुक्त राज्य अमरीका, दक्षिणी एशिया की राजनीति में किस प्रकार अहम भूमिका निभाते हैं ? व्याख्या कीजिए।

3+3=6

What is meant by hegemony ? Explain any two constraints on American power.

OR

Explain as to how China and the United States of America are key players in the South Asian politics.

33. स्वतंत्रता के पश्चात् भारतीय राजनीतिक परिदृश्य में लगभग तीन दशकों तक काँग्रेस पार्टी का प्रभुत्व बनाए रखने में सहायक किन्हीं तीन कारकों का मूल्यांकन कीजिए । 3×2=6

अथवा

दूसरी पंचवर्षीय योजना के दौरान औद्योगिक विकास तथा कृषि विकास के पक्ष में दिए गए तीन-तीन मुख्य तर्कों की व्याख्या कीजिए । 3+3=6

Evaluate any three factors that helped the Congress Party to continue to dominate the Indian political scenario for almost three decades after independence.

OR

Explain the three main arguments each that ensued in favour of industrialisation and agricultural development at the time of the Second Five Year Plan.

34. भारत में 1967 के चौथे आम चुनाव से पहले के गंभीर आर्थिक संकट का परीक्षण कीजिए । इस निर्वाचन के आधार पर निर्वाचकों के जनादेश का विश्लेषण कीजिए । 3+3=6

अथवा

1977 के चुनाव के बाद, केंद्र में विपक्षी दलों की सरकार बनी । इस बदलाव के किन्हीं छः कारणों का विश्लेषण कीजिए । 6×1=6

Examine the grave economic crisis prior to the fourth general elections of 1967 in India. Analyse the verdict of the electorate based on this election.

OR

It was for the first time in India that the 1977 elections saw the opposition coming to power at the Centre. Analyse any six reasons for this change.

35. निम्नलिखित अवतरण को पढ़िए आर उसक नाच । लख प्रश्ना क उत्तर दीजिए :

3×2=6

इससे पहले घरेलू हिंसा, दहेज-प्रथा, कार्यस्थल एवं सार्वजनिक स्थानों पर यौन-उत्पीड़न के खिलाफ काम करने वाले महिला समूह आमतौर पर शहरी मध्यवर्गीय महिलाओं के बीच ही सक्रिय थे और यह बात पूरे देश पर लागू होती थी । महिला समूहों के सतत् प्रयास से यह समझदारी विकसित होनी शुरू हुई कि औरतों पर होने वाले अत्याचार और लैंगिक भेदभाव का मामला खासा जटिल है । आठवें दशक के दौरान महिला आंदोलन परिवार के अंदर और उसके बाहर होने वाली यौन हिंसा के मुद्दों पर केंद्रित रहा । इन समूहों ने दहेज-प्रथा के खिलाफ मुहिम चलाई और लैंगिक समानता के सिद्धान्त पर आधारित व्यक्तिगत एवं संपत्ति कानूनों की मांग की ।

प्रश्न :

- (i) 'लैंगिक भेदभाव' से क्या अभिप्राय है ? इससे सम्बन्धित किन्हीं दो सामाजिक कुरीतियों के उदाहरण दीजिए ।
- (ii) लैंगिक भेदभाव को समाप्त करने के लिए कोई दो उपाय सुझाइए ।
- (iii) महिलाओं पर किए जाने वाले अत्याचार के किन्हीं दो मुद्दों का उल्लेख कीजिए । इन अत्याचारों को समाप्त करने का सबसे प्रभावशाली तरीका कौन-सा है ?

अथवा

निम्नलिखित अवतरण को पढ़िए और उसके नीचे लिखे प्रश्नों के उत्तर दीजिए :

3×2=6

दूसरा वर्ग (इसमें ज्यादातर कश्मीरी हैं) विश्वास करता है कि इतनी भर स्वायत्तता पर्याप्त नहीं है । कश्मीरियों के एक वर्ग ने तीन प्रमुख शिकायतें उठायी हैं । पहली यह कि भारत सरकार ने वायदा किया था कि कबायली घुसपैठियों से निपटने के बाद जब स्थिति सामान्य हो जाएगी तो भारत संघ में विलय के मुद्दे पर जनमत-संग्रह कराया जाएगा । इसे पूरा नहीं किया गया । दूसरी, धारा 370 के तहत दिया गया विशेष दर्जा पूरी तरह से अमल में नहीं लाया गया । इससे स्वायत्तता की बहाली अथवा राज्य को ज्यादा स्वायत्तता देने की मांग उठी । तीसरी शिकायत यह की जाती है कि भारत के बाकी हिस्सों में जिस तरह लोकतंत्र पर अमल होता है उस तरह का संस्थागत लोकतांत्रिक बरताव जम्मू-कश्मीर में नहीं होता ।

प्रश्न :

- (i) जनमत-संग्रह से क्या अभिप्राय है ?
- (ii) धारा 370, सम्बन्धित राज्य को किस प्रकार की स्वायत्तता सुनिश्चित करती है ?
- (iii) अवतरण में लिखित 'कबायली घुसपैठ' से सम्बन्धित घटना का वर्णन कीजिए ।

Study the passage given below and answer the questions that follow :

Earlier, women's groups working on issues of domestic violence, the custom of dowry, sexual abuse at work and public places were active mainly among urban middle-class women in different parts of the country. Their work led to a realisation that issues of injustice to women and of gender inequalities were complicated in nature. During the decade of the eighties women's movement focused on issues of sexual violence against women – within the family and outside. These groups ran a campaign against the system of dowry and demanded personal and property laws based on the norms of gender equality.

Questions :

- (i) What is meant by 'gender inequality' ? Give any two examples of social evils related to this.
- (ii) Suggest any two measures to eradicate gender inequality.
- (iii) Mention any two issues of injustice to women. What is the most effective way to address these issues ?

OR

Study the passage given below and answer the questions that follow :

Another section, mostly Kashmiris, believe that the autonomy conferred by Article 370 is not enough. A section of Kashmiris have expressed at least three major grievances. First, the promise that Accession would be referred to the people of the State after the situation created by tribal invasion was normalised, has not been fulfilled. This has generated the demand for a 'Plebiscite'. Secondly, there is a feeling that the special federal status guaranteed by Article 370, has been eroded in practice. This has led to the demand for restoration of autonomy or 'Greater State Autonomy'. Thirdly, it is felt that democracy which is practised in the rest of India has not been similarly institutionalised in the State of Jammu and Kashmir.

Questions :

- (i) What is meant by 'Plebiscite' ?
- (ii) What type of autonomy does the Article 370 ensure to the State concerned ?
- (iii) State the incident referred to as 'tribal invasion' in the given passage.